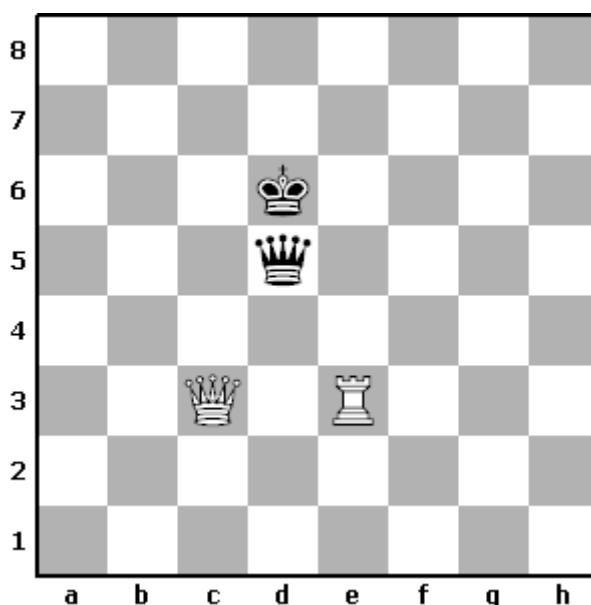



**Олимпиада по шахматам (для детей 9-10 лет)**

**ТЫ ПОПАДАЕШЬ В ВОЛШЕБНУЮ  
ШАХМАТНУЮ СТРАНУ И НАЧИНАЕШЬ  
ИГРАТЬ С ОЧЕНЬ СИЛЬНЫМ  
ШАХМАТИСТОМ – ИГРОКОМ-  
НЕВИДИМКОЙ**

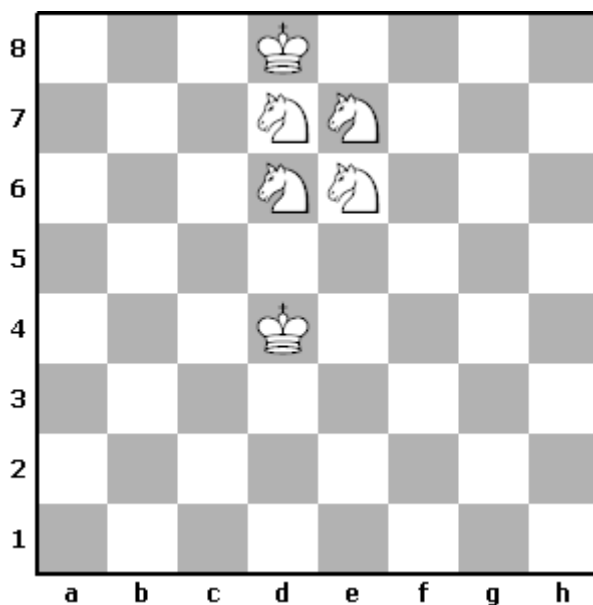
**1. Тебе удалось, играя чёрными, объявить Игроку-Невидимке мат. Но тут белый король вдруг исчез с доски. На каком поле он стоял?**



**Это поле запиши с помощью шахматной нотации в квадрате, нарисованном ниже.**




**2. Тебе удалось, играя белыми, объявить Игроку-Невидимке мат. Как вдруг все чёрные фигуры побелели.**



**Закрась ручкой или карандашом такие чёрные фигуры, чтобы в этой позиции был мат чёрному королю.**


**3. Ты играешь чёрными против Игрока-Невидимки, и тебе нужно поставить ему мат в два хода.**



**Первый ход решения запиши с помощью краткой шахматной нотации в прямоугольнике, нарисованном ниже.**

1..._____
-----------


4. Игроку-Невидимке надоело проигрывать, и он придумал для тебя вот такую хитрую задачу: Белые начинают и объявляют чёрному королю мат в один ход.



Этот ход запиши с помощью полной шахматной нотации в прямоугольнике, нарисованном ниже. Значок мата (X) там уже записан.

1. \_\_\_\_\_X


**5. Ты играешь белыми против Игрока-Невидимки, и тебе нужно поставить ему мат в два хода.**



**Первый ход решения запиши с помощью краткой шахматной нотации в прямоугольнике, нарисованном ниже.**

1. _____
----------


**6. Ты играешь белыми против Игрока-Невидимки, и тебе нужно поставить ему мат в два хода.**



**Первый ход решения запиши с помощью краткой шахматной нотации в прямоугольнике, нарисованном ниже.**

1. _____
----------


**7. Ты играешь белыми против Игрока-Невидимки, и ты можешь поставить ему мат в два хода.**



**Первый ход решения запиши с помощью краткой шахматной нотации в прямоугольнике, нарисованном ниже.**

1. _____
----------

8. Ты играешь белыми против Игрока-Невидимки, и тебе нужно найти лучший ход – тот, который поможет тебе победить в позиции на диаграмме.




Ответ запиши с помощью краткой шахматной нотации в квадрате, нарисованном ниже.

1. _____
----------




9. Игроку-Невидимке опять надоело проигрывать, и он придумал для тебя новую хитрую задачу: Белые начинают и объявляют чёрному королю мат в один ход.



Этот ход запиши с помощью полной шахматной нотации в прямоугольнике, нарисованном ниже. Значок мата (X) там уже записан.

1. \_\_\_\_\_X

**10. Игрок-Невидимка придумал для тебя самую трудную задачу.**



**В положении на диаграмме чёрный король заколдован и не может двигаться. Сделай белыми подряд 4 хода и поставь четвёртым ходом мат. При этом белые не имеют права объявлять чёрному королю шах на первых трёх ходах! Все 4 хода белых запиши с помощью краткой шахматной нотации в прямоугольнике, нарисованном ниже.**

1.	2.	3.	4.
----	----	----	----